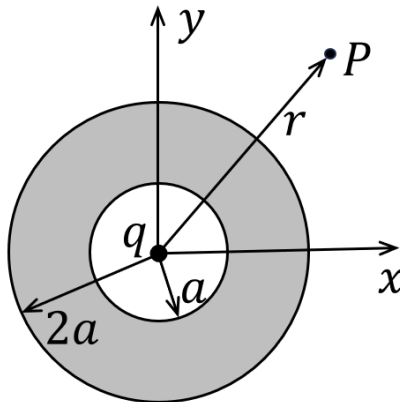


Física III - 4323203
Escola Politécnica - 2023
GABARITO DA REC
11 de julho de 2024

Questão 1

Uma camada esférica condutora de raio interno a e raio externo $2a$ está centrada na origem do sistema de coordenadas, como mostra a figura abaixo. A carga total na camada esférica é zero e na origem do sistema de coordenadas há uma carga puntiforme q , positiva.



- (a) (0,5 ponto) Use a lei de Gauss para calcular a carga total contida na superfície interna da camada esférica condutora.
- (b) (1,0 ponto) Calcule a densidade superficial de carga na superfície externa da camada esférica.
- (c) (1,0 ponto) Calcule o vetor campo elétrico em um ponto P exterior à esfera.

Solução da questão 1

- (a) Considerando uma superfície gaussiana que engloba a cavidade e está contida no interior do condutor, e em seguida levando em conta que o campo elétrico é nulo no interior do condutor, a lei de Gauss nos diz que

$$\oint \vec{E} \cdot d\vec{A} = \frac{q_{int}}{\epsilon_0} = 0 = \frac{q + q_{total}}{\epsilon_0} \Rightarrow \boxed{q_{total} = -q}$$

- (b) Como a carga se distribui sempre na superfície do condutor e a esfera está descarregada, concluímos (usando o resultado do item anterior) que a carga na superfície externa é $+q$. Logo a densidade superficial de carga é:

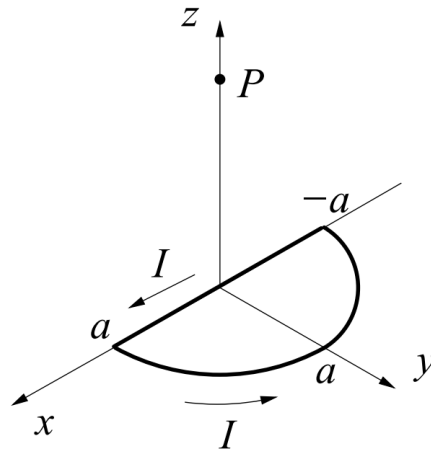
$$\boxed{\sigma = \frac{q}{16\pi a^2}}$$

- (c) Considerando uma superfície gaussiana em formato esférico, com raio r , temos:

$$\oint \vec{E} \cdot d\vec{A} = \frac{q_{int}}{\epsilon_0} \Rightarrow E(4\pi r^2) = \frac{q}{\epsilon_0} \Rightarrow E = \frac{q}{4\pi\epsilon_0 r^2} \Rightarrow \boxed{\vec{E} = \frac{q}{4\pi\epsilon_0 r^2} \hat{r}}$$

Questão 2

Uma espira é formada por um trecho circular de raio a e um trecho reto de comprimento $2a$, conforme ilustrado na figura abaixo. Pela espira, passa uma corrente I , no sentido indicado na figura. Dica: Para o trecho semicircular, o vetor infinitesimal $d\vec{\ell}$ é dado por $d\vec{\ell} = -a \sin\theta d\theta \hat{i} + a \cos\theta d\theta \hat{j}$, onde o ângulo θ é medido a partir do eixo x .



- (a) (1,0 ponto) Calcule o vetor campo magnético produzido pelo trecho reto no ponto $P = (0, 0, z)$. Expresse sua sua resposta na forma cartesiana.
- (b) (1,0 ponto) Calcule o vetor campo magnético produzido pelo trecho semicircular no ponto $P = (0, 0, z)$. Expresse sua sua resposta na forma cartesiana.
- (c) (0,5 ponto) Qual é a força magnética resultante sobre a espira se a espira for submetida a um campo magnético uniforme dado por $\vec{B} = B_0 \hat{k}$?

Solução da questão 2

$$(a) \vec{B} = \frac{\mu_0 I}{4\pi} \int d\vec{B} = \frac{\mu_0 I}{4\pi} \int \frac{d\vec{\ell} \times \hat{r}}{r^2}, \text{ sendo}$$

$$\vec{r} = -x\hat{i} + z\hat{k},$$

$$\hat{r} = \frac{-x\hat{i} + z\hat{k}}{\sqrt{x^2 + z^2}},$$

$$r = \sqrt{x^2 + z^2}, \text{ e}$$

$$d\vec{\ell} = dx\hat{i}.$$

Logo:

$$\vec{B} = \frac{\mu_0 I}{4\pi} \int_{-a}^{+a} \frac{(dx\hat{i}) \times (-x\hat{i} + z\hat{k})}{(x^2 + z^2)^{3/2}} = \frac{\mu_0 I}{4\pi} \int_{-a}^{+a} \frac{-z dx \hat{j}}{(x^2 + z^2)^{3/2}} \Rightarrow \boxed{\vec{B} = -\frac{\mu_0 I}{2\pi} \frac{a}{z\sqrt{a^2 + z^2}} \hat{j}}$$

$$(b) \vec{B} = \frac{\mu_0 I}{4\pi} \int d\vec{B} = \frac{\mu_0 I}{4\pi} \int \frac{d\vec{\ell} \times \hat{r}}{r^2}, \text{ sendo}$$

$$\vec{r} = -a \cos \theta \hat{i} - a \sin \theta \hat{j} + z\hat{k},$$

$$\hat{r} = \frac{-a \cos \theta \hat{i} - a \sin \theta \hat{j} + z\hat{k}}{\sqrt{a^2 + z^2}},$$

$$r = \sqrt{a^2 + z^2}, \text{ e}$$

$$d\vec{\ell} = -a \sin \theta d\theta \hat{i} + a \cos \theta d\theta \hat{j}.$$

Logo:

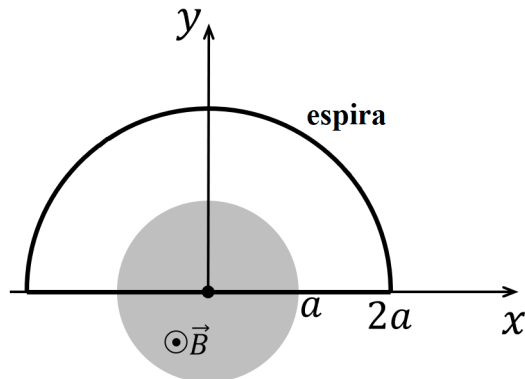
$$\vec{B} = \frac{\mu_0 I}{4\pi} \int_0^\pi \frac{(-a \sin \theta d\theta \hat{i} + a \cos \theta d\theta \hat{j}) \times (-a \cos \theta \hat{i} - a \sin \theta \hat{j} + z\hat{k})}{(a^2 + z^2)^{3/2}} \Rightarrow$$

$$\vec{B} = \frac{\mu_0 I}{4\pi} \int_0^\pi \frac{az \cos \theta d\theta \hat{i} + az \sin \theta d\theta \hat{j} + a^2 d\theta \hat{k}}{(a^2 + z^2)^{3/2}} \Rightarrow \boxed{\vec{B} = \frac{\mu_0 I}{4\pi} \frac{(2az\hat{j} + \pi a^2 \hat{k})}{(a^2 + z^2)^{3/2}}}$$

(c) A força resultante sobre a espira produzida por um campo magnético uniforme é zero. Portanto $\boxed{\vec{F} = 0}$

Questão 3

Em uma região cilíndrica de raio a e comprimento infinito na direção z (região cinza na figura) há um campo magnético uniforme dado por $\vec{B} = Dt\hat{k}$, onde $D > 0$ e t é o tempo. Uma espira de resistência R formada por um trecho semicircular de raio $2a$ e por um trecho retilíneo de comprimento $4a$ é posicionada sobre o plano xy , conforme indicado na figura.



- (a) (1,0 ponto) Calcule o vetor campo elétrico \vec{E} em um ponto P , localizado a uma distância r do centro da região cilíndrica, sendo $0 < r < a$.
- (b) (0,5 ponto) Calcule o vetor campo elétrico \vec{E} em um ponto P , localizado a uma distância r do centro da região cilíndrica, sendo $r > a$.
- (c) (0,5 ponto) Calcule a corrente induzida na espira.
- (d) (0,5 ponto) Determine o sentido da corrente induzida na espira. Justifique sua resposta!

Solução da questão 3

(a) Considerando uma curva fechada C de raio r , temos:

$$\oint_C \vec{E} \cdot d\vec{\ell} = -\frac{d}{dt} \int \vec{B} \cdot d\vec{A} \Rightarrow E2\pi r = -\frac{d}{dt} (Dt\pi r^2) \Rightarrow \boxed{\vec{E} = -\frac{Dr}{2} \hat{\theta}}$$

(b) Considerando uma curva fechada C de raio r , temos:

$$\oint_C \vec{E} \cdot d\vec{\ell} = -\frac{d}{dt} \int \vec{B} \cdot d\vec{A} \Rightarrow E2\pi r = -\frac{d}{dt} (Dt\pi a^2) \Rightarrow \boxed{\vec{E} = -\frac{Da^2}{2r} \hat{\theta}}$$

(c) Utilizando a Lei de Faraday, temos:

$$\varepsilon = -\frac{d}{dt} \int \vec{B} \cdot d\vec{A} \Rightarrow \varepsilon = -\frac{D\pi a^2}{2}$$

Logo:

$$I = \frac{|\varepsilon|}{R} \Rightarrow \boxed{I = \frac{D\pi a^2}{2R}}$$

(d) De acordo com a Lei de Lenz, o sentido da corrente induzida deve ser tal que produza uma campo magnético de modo a tentar impedir que o campo magnético na região cinza aumente. Logo:

sentido horário!

Questão 4

Considere uma onda eletromagnética plana que se propaga no vácuo com campo elétrico dado por $\vec{E} = E_0 \cos[kz - \omega t]\hat{i}$, onde $E_0 > 0$ é a amplitude da onda, k é o número de onda, e ω é a frequência angular.

- (a) (1,0 ponto) Calcule o vetor campo magnético desta onda. Expresse sua resposta em termos de E_0 , c , e demais informações contidas no enunciado.
- (b) (1,0 ponto) Calcule o vetor de Poynting \vec{S} e o seu valor médio $\langle \vec{S} \rangle$.
- (c) (0,5 ponto) Considerando uma superfície plana de área A , paralela ao plano xz , calcule a energia que atravessa a superfície durante um intervalo de tempo correspondente a 1 período da onda.

Solução da questão 4

(a) Temos $\vec{B} = \hat{c} \times \vec{E}/c$ e $\hat{c} = \hat{k}$, logo $\vec{B} = \frac{E_0}{c} \cos[kz - \omega t] \hat{j}$

(b) $\vec{S} = \frac{\vec{E} \times \vec{B}}{\mu_0} \Rightarrow \vec{S} = \frac{E_0^2}{c\mu_0} \cos^2[kz - \omega t] \hat{k}$.

$$\langle \vec{S} \rangle = \frac{E_0^2}{2c\mu_0} \hat{k}.$$

(c) Como a onda viaja no sentido de z positivo e a superfície é paralela ao plano xz , a onda não atravessa a superfície, logo a energia total é zero. Portanto:

$$U = 0$$

Formulário

$$\vec{F} = \frac{qq'(\vec{r} - \vec{r}')}{4\pi\epsilon_0|\vec{r} - \vec{r}'|^3}, \quad \vec{F} = q\vec{E}, \quad \vec{E} = \frac{q(\vec{r} - \vec{r}')}{4\pi\epsilon_0|\vec{r} - \vec{r}'|^3}, \quad \vec{E} = \frac{1}{4\pi\epsilon_0} \int \frac{dq}{r^2} \hat{r}, \quad V = \frac{q}{4\pi\epsilon_0|\vec{r} - \vec{r}'|},$$

$$V = \frac{1}{4\pi\epsilon_0} \int \frac{dq}{r}, \quad \vec{E} = -\vec{\nabla}V, \quad U = \frac{1}{4\pi\epsilon_0} \sum_{i<j} \frac{q_i q_j}{r_{ij}}, \quad dA = 2\pi r dr (\text{coordenadas polares})$$

$$C = Q/V, \quad W = q\Delta V, \quad V_B - V_A = - \int_A^B \vec{E} \cdot d\vec{\ell}, \quad \vec{E} = -\vec{\nabla}V, \quad d\vec{F} = I d\vec{\ell} \times \vec{B}, \quad \vec{\mu} = I\vec{A},$$

$$\oint \vec{E} \cdot d\vec{A} = \frac{q_{int}}{\epsilon_0}, \quad \oint \vec{B} \cdot d\vec{A} = 0, \quad d\vec{B} = \frac{\mu_0 I d\vec{\ell} \times \hat{r}}{4\pi r^2}, \quad \oint \vec{E} \cdot d\vec{\ell} = -\frac{d}{dt} \int \vec{B} \cdot d\vec{A},$$

$$\mathcal{E} = -\frac{d\Phi_m}{dt}, \quad \Phi^{total} = N\phi_{espira} = LI, \quad \Phi_{21}^{total} = N_2\phi_{espira} = M_{21}I_1, \quad u_m = \frac{B^2}{2\mu_0}, \quad U = \frac{LI^2}{2},$$

$$\oint \vec{B} \cdot d\vec{\ell} = \mu_0 I + \mu_0 \epsilon_0 \frac{d}{dt} \int \vec{E} \cdot d\vec{A}, \quad I = \int \vec{J} \cdot d\vec{A}, \quad \vec{\nabla} \cdot \vec{E} = \frac{\rho}{\epsilon_0}, \quad \vec{\nabla} \cdot \vec{B} = 0, \quad \vec{\nabla} \times \vec{E} = -\frac{\partial \vec{B}}{\partial t},$$

$$\vec{\nabla} \times \vec{B} = \mu_0 \vec{J} + \mu_0 \epsilon_0 \frac{\partial \vec{E}}{\partial t}, \quad \nabla^2 \vec{E} = \mu_0 \epsilon_0 \frac{\partial^2 \vec{E}}{\partial t^2}, \quad \nabla^2 \vec{B} = \mu_0 \epsilon_0 \frac{\partial^2 \vec{B}}{\partial t^2}, \quad c = \frac{1}{\sqrt{\mu_0 \epsilon_0}}, \quad \vec{B} = \frac{\hat{c} \times \vec{E}}{c},$$

$$\vec{E} = E_m \cos(kx \pm \omega t + \phi) \hat{j}, \quad \vec{B} = B_m \cos(kx \pm \omega t + \phi) \hat{k}, \quad k = \frac{2\pi}{\lambda}, \quad \omega = \frac{2\pi}{T}, \quad kc = \omega,$$

$$f = 1/T, \quad \vec{S} = \frac{1}{\mu_0} \vec{E} \times \vec{B}, \quad S = uc, \quad u = u_e + u_m = \frac{\epsilon_0 E^2}{2} + \frac{B^2}{2\mu_0}, \quad I = \langle S \rangle = \frac{E_m B_m}{2\mu_0},$$

$$\langle \cos^2(kx - \omega t + \phi) \rangle = \langle \sin^2(kx - \omega t + \phi) \rangle = 1/2, \quad \langle \cos(kx - \omega t + \phi) \sin(kx - \omega t + \phi) \rangle = 0.$$

$$\cos A + \cos B = 2 \cos\left(\frac{A+B}{2}\right) \cos\left(\frac{A-B}{2}\right), \quad \cos A - \cos B = 2 \sin\left(\frac{A+B}{2}\right) \sin\left(\frac{A-B}{2}\right).$$

$$\sin A + \sin B = 2 \sin\left(\frac{A+B}{2}\right) \cos\left(\frac{A-B}{2}\right), \quad \hat{r} = \cos\theta \hat{i} + \sin\theta \hat{j}, \quad \hat{\theta} = -\sin\theta \hat{i} + \cos\theta \hat{j}$$

$$\int \frac{dx}{\sqrt{x^2 + a^2}} = \ln(x + \sqrt{x^2 + a^2}), \quad \int \frac{x dx}{\sqrt{x^2 + a^2}} = \sqrt{x^2 + a^2}.$$

$$\int \frac{dx}{(c+x^2)^{3/2}} = \frac{x}{c(c+x^2)^{1/2}},$$